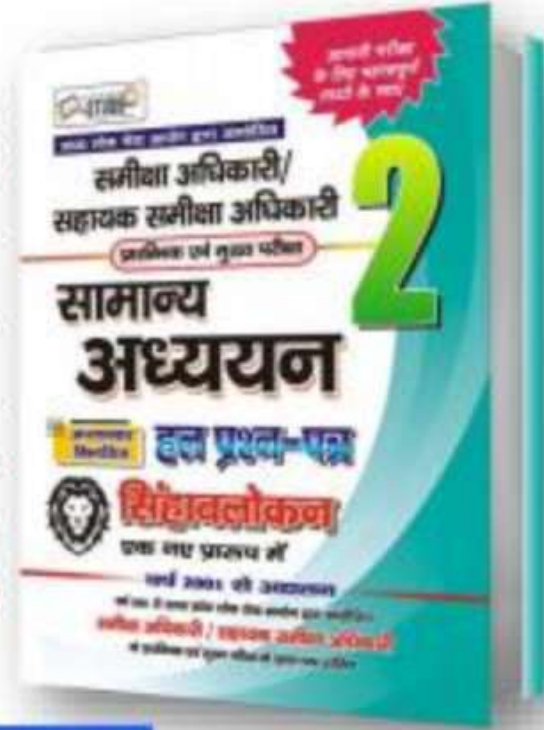


समीक्षा अधिकारी (RO) & सहायक समीक्षा अधिकारी (ARO)

सम्पूर्ण हल-प्रश्नपत्र #11

- ♦ प्राचीन इतिहास
- ♦ मध्यकालीन इतिहास
- ♦ आधुनिक इतिहास
- ♦ विश्व का भूगोल
- ♦ भारत का भूगोल
- ♦ जनसंख्या विशेष
- ♦ उत्तर प्रदेश विशेष

Best
Book
Best
Class



EXAM

*Pre & Mains - 2021

*Pre 2017

*Mains - 2016 & 2014


- ♦ भारतीय संविधान
- ♦ भौतिक & रसायन
- ♦ जीव विज्ञान
- ♦ विज्ञान & टेक
- ♦ अर्थशास्त्र
- ♦ पर्यावरण
- ♦ कृषि

FREE
CLASS

Fast & Free
DELIVERY



Foundation Batch



Call Us Now

7007734525, 9455069191

History

Geography

Polity



Science



Economics

UP Special

Environment

Hindi

मौर्य → शुंग → कण्व → सातवाहन

- नीचे दो वक्तव्य दिए गए हैं, जिसमें एक को अभिकथन (A) व दूसरे को कारण (R) कहा गया है-
 अभिकथन (A) : सातवाहन काल में संस्कृत के साथ प्राकृत व अन्य लोक भाषाओं का विकास हुआ।
 कारण (R) : सातवाहन राजाओं ने साहित्य-रचना के लिये संस्कृत तथा अन्य लोक भाषाओं को अपनाया।
- A. (A) तथा (R) दोनों सही हैं और (A) का सही स्पष्टीकरण (R) है।
 B. (A) तथा (R) दोनों सही हैं किन्तु (A) का सही स्पष्टीकरण (R) नहीं है।
 C. (A) सही है किन्तु (R) गलत है।
 D. (A) गलत है किन्तु (R) सही है।

- सातवाहन वंश के संस्थापक → सिमुक
 सातवाहन वंश की राजधानी → प्रतिष्ठा (गोदावरी नदी)
 सातवाहन शासकों के समय प्रसिद्ध साहित्यकार → गुणाड्य & हाल
 'वृहत्कथा' नामक पुस्तक की रचना की → गुणाड्य
 शीशे के सिक्के किस काल में चलाए गए → सातवाहन



निम्नलिखित में से किस वर्ष प्रयागराज (उ.प्र.) के किले पर अंग्रेजों का अधिकार स्थापित हुआ-

- A. 1790 ई.
- B. 1792 ई.
- C. 1796 ई.
- D. 1797 ई.

जहाँगीर के लिए



ककबर

प्रयागराज (उ.प्र.) में अंग्रेजों का अधिकार स्थापित हुआ → 1797 ई.

प्रयागराज के किले का निर्माण करवाया था → ककबर

1797 ई. में नवाब अली और अंग्रेजों के बीच हुई संधि के बाद अंग्रेजों का कब्जा हुआ → प्रयागराज

मॉटेग्यू-चैम्सफोर्ड

STUDY 91



✓ भारतीय सिविल सेवा के संदर्भ में, निम्नलिखित कथनों में से कौन-सा/से कथन सही है/हैं-

1. भारत सरकार अधिनियम, 1919 में भारतीय सिविल सेवा के लिए एक अलग परीक्षा का प्रावधान किया गया, जो भारत में होनी थी।
2. भारतीय सिविल सेवा में 1947 में भारतीयों का प्रतिशत यूरोपवासियों से अधिक था।

कूट :

- | | |
|-----------|-------------------|
| A. केवल 1 | ✓ C. 1 और 2 दोनों |
| B. केवल 2 | D. न तो 1 ना ही 2 |

✓ किस वर्ष से भारतीय सिविल सेवा परीक्षा का आयोजन भारत में हुआ → 1922 ई.

✓ उपरोक्त परीक्षा कराने हेतु कहाँ लोक सेवा आयोग का गठन हुआ → पहले इलाहाबाद, बाद में दिल्ली

✓ सिविल सेवा आयोग की स्थापना कब और कहाँ हुआ → 1855 → लन्दन



निम्नलिखित में से कौन-सा सही सुमेलित नहीं है-

(राज्य)

(गर्म झरने)

A. हिमाचल प्रदेश - मणिकर्ण

B. ओडिशा - तप्तपानी

C. महाराष्ट्र - वज्रेश्वरी

D. गुजरात - नारायणी

राजस्थान

राज्य

गर्म झरने

राजस्थान

→ नारायणी

ओडिशा

→ तप्तपानी, अत्री

हिमाचल प्रदेश

→ मणिकर्ण, वशिष्ठ
करोलप घाटी, डीरगंगा

महाराष्ट्र

→ सकोली, वज्रेश्वरी



□ यूरोप में राइन नदी के संदर्भ में, निम्नलिखित में से कौन-सा/से कथन सही है/हैं-

1. राइन नदी, उत्तरी जर्मनी की औद्योगिक गतिविधियों के लिए एक महत्वपूर्ण मार्ग है।
2. रॉटरडम का बंदरगाह राइन नदी के मुहाने पर स्थित है।

नीदरलैंड

कूट :

- | | |
|-----------|----------------------|
| A. केवल 1 | C. दोनों 1 और 2 |
| B. केवल 2 | D. न तो 1 और ना ही 2 |

✓ यूरोप महाद्वीप का सबसे व्यस्ततम् बंदरगाह है → रॉटरडम (नीदरलैंड)

✓ जर्मनी की प्रसिद्ध नदियाँ हैं → राइन
रूल्ब, ओडर (उत्तरी सागर में मिलती हैं।)

✓ जर्मनी की डेन्यूब नदी अपना जल गिराती है → काला सागर

✓ राइन नदी का उद्गम स्थल है → ब्लैक फॉरेस्ट



जनसंख्या & नगरीकरण

माल्थस के अनुसार, जनसंख्या नियंत्रण का सर्वाधिक प्रभावकारी उपाय निम्नलिखित में से कौन-सा है-

- A. युद्ध
- B. विपत्ति
- C. जन्म नियंत्रण
- D. अनैतिक व्यवहार

माल्थस के अनुसार, उत्पादन में वृद्धि होती है → **अंकगणितीय वृद्धि** → 1, 2, 3, 4, ... 10, 11, ...

माल्थस के अनुसार, जनसंख्या में वृद्धि होती है → **ज्यामितीय वृद्धि** → 1, 2, 4, 8, 16, 32, ...

माल्थस के अनुसार, कितने वर्ष में जनसंख्या दोगुनी हो जाती है → **25 वर्ष**



RO/ARO Pre. 2021

13 Dec. 1946 → **JLN**

उद्देश्य
प्रस्ताव



* 9 Dec. 1946 → आर्य समाज के अध्यक्ष
डॉ. साचिदानंद

राजव्यवस्था

* 11 Dec. 1946 → स्टाई - डॉ राजेन्द्र

□ भारतीय संविधान की प्रस्तावना में, इसके सभी नागरिकों को कौन-सा **न्याय** प्रदान करने की व्यवस्था की गयी है-

- A. सामाजिक, ~~धार्मिक~~ व राजनीतिक
- B. सामाजिक, आर्थिक व ~~सांस्कृतिक~~
- C. सामाजिक, राजनैतिक व ~~सांस्कृतिक~~
- D. सामाजिक, आर्थिक व राजनैतिक → **3**

✓ भारतीय संविधान की प्रस्तावना में कुल कितनी **स्वतंत्रताएँ** प्रदान की गयी हैं → **5**

- 1. विचार, 2. आक्रियता 3. विश्वास
- 4. धर्म 5. उपाला

✓ भारतीय संविधान की प्रस्तावना में समानताओं का उल्लेख है → **2**

- 1. प्रतिष्ठा 2. कवहर

✓ संविधान को अंगीकार किया गया → **26 Nov**

1949



ज्वरवासी
पीड़ावासी

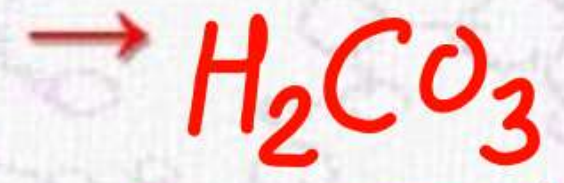
❑ तुलसी के पौधे का औषधीय महत्त्व निम्नलिखित की उपस्थिति के कारण है-

- ~~A~~ अकार्बनिक अम्ल
- ~~B~~ कार्बनिक अम्ल
- C. फिनोल एवं फ्लेवोनॉयड्स
- ~~D~~ लिथियम बाइकार्बोनेट

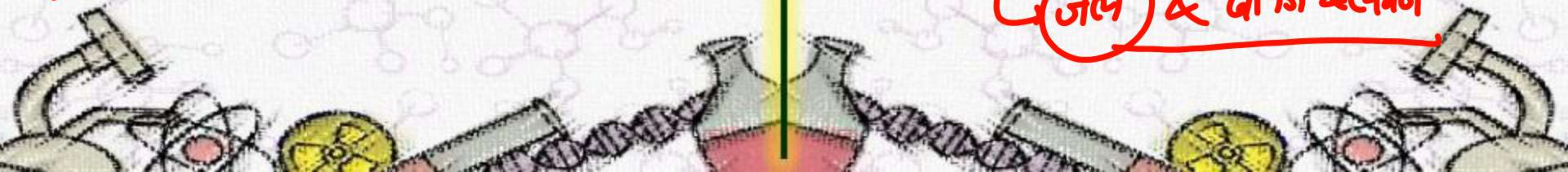
पीड़ावासी
ज्वरवासी

✓ कार्बनिक अम्ल पाया जाता है →
↳ बड़े पदार्थों में

✓ कार्बनिक अम्ल का रासायनिक सूत्र है



✓ अकार्बनिक पोषक तत्व हैं →
↳ जल & वाजि & पत्र





RO/ARO Pre. 2021

रेशम कीट पालन



STUDY 91

जीव विज्ञान

सैरीकल्ट्चा

मकड़ियों द्वारा उत्पादित रेशम कहलाता है-

- A. टसर रेशम
- B. गोसामर रेशम
- C. मूंगा रेशम
- D. अहिंसा रेशम

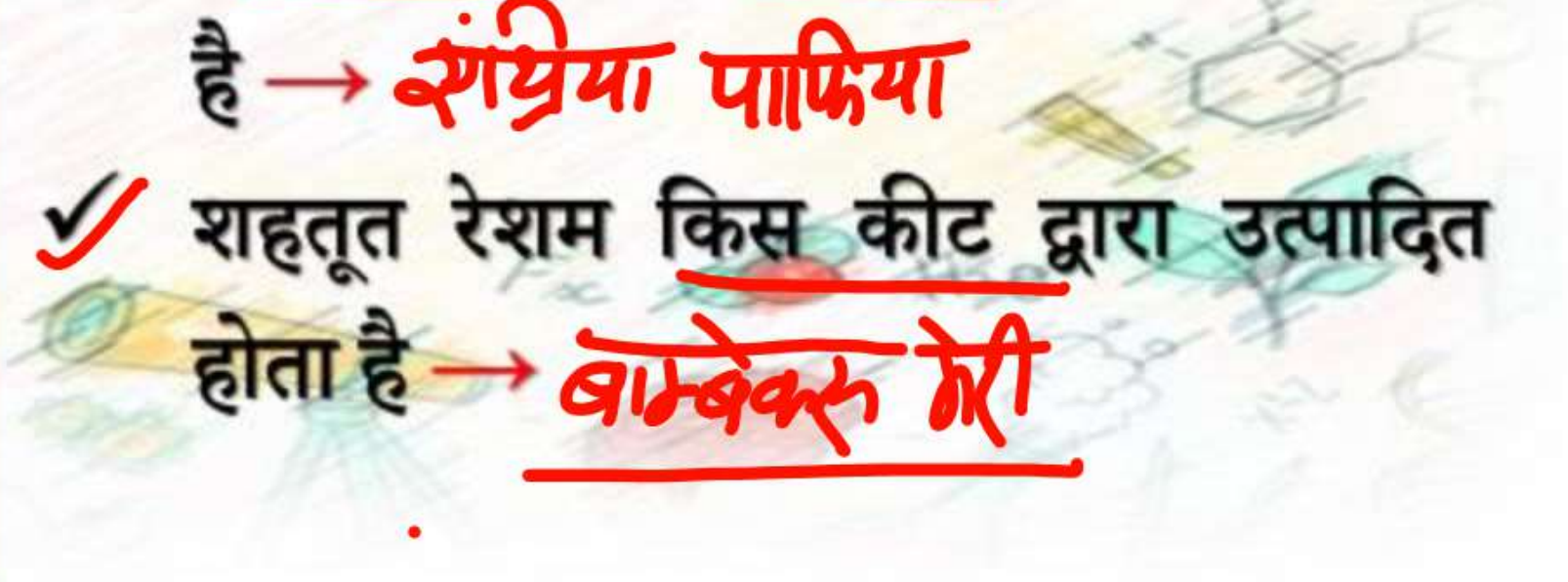

मोंसमर

मकड़ियाँ अपना उत्सर्जन मुख्य रूप से किस पदार्थ के रूप में करती हैं → ग्वानीन

मूंगा रेशम प्राप्त होता है → संश्रिया अलामा
(कार्मोपोडा)

टसर रेशम किस कीट द्वारा उत्पादित होता है → संश्रिया पाफिया

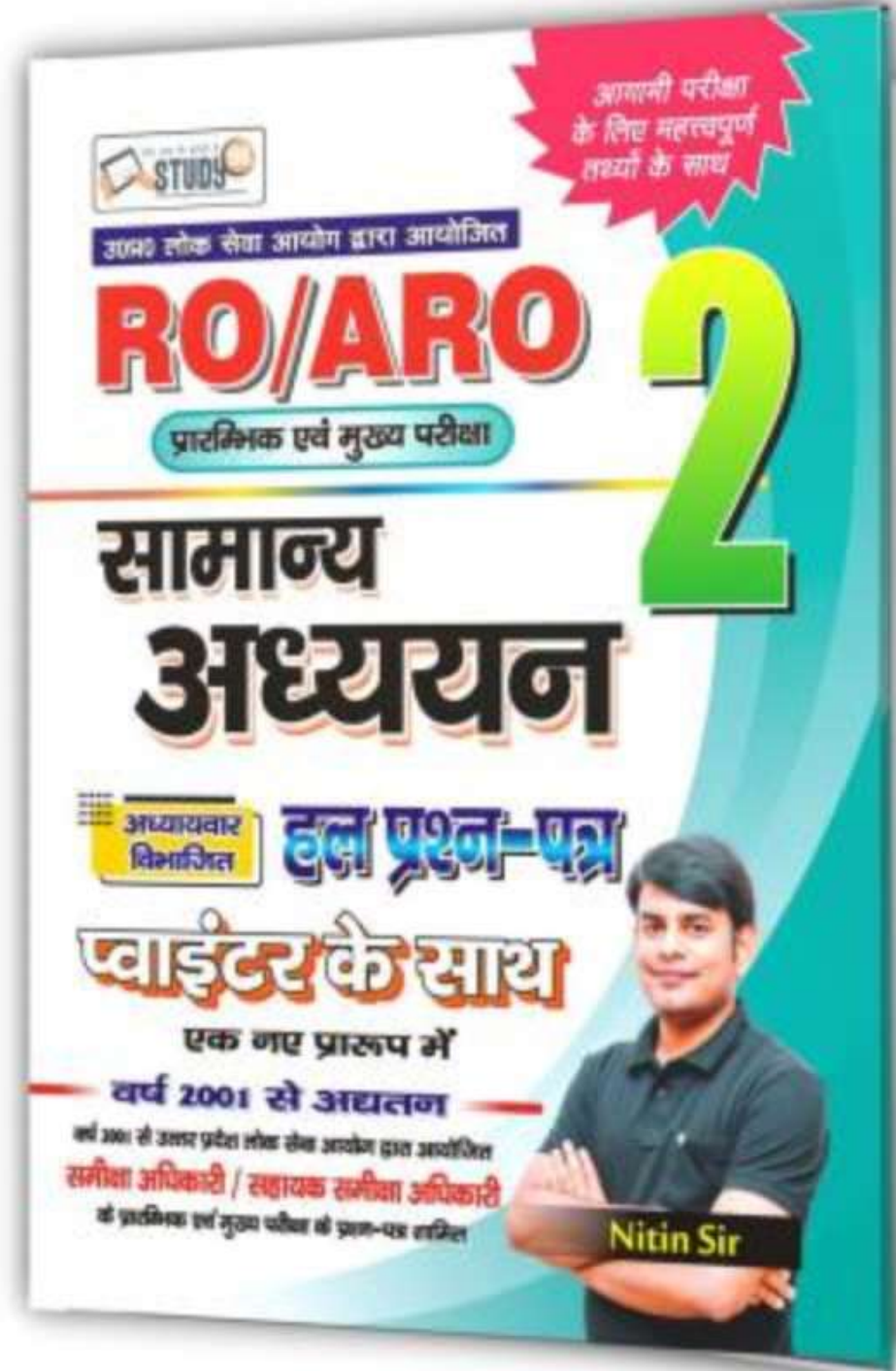
शहतूत रेशम किस कीट द्वारा उत्पादित होता है → बाम्बेकरु गेरी





Call us now!

7007734525



Order on
63 5000 9191 





RO/ARO Pre. 2021

Investment

STUDY 91

अर्थशास्त्र

☐ भारत में जिन व्यक्तियों का विनियोग 1 करोड़ रु. तक तथा कारोबार 5 करोड़ रु. तक है, उन्हें जाना जाता है-

- A. छोटे उद्यम
- B. लघु उद्यम
- C. सूक्ष्म उद्यम
- D. मध्यम उद्यम

Turn-over

✓ वे उद्योग जिनमें 1 करोड़ रुपये से कम का निवेश हो एवं वार्षिक टर्न ओवर 5 करोड़ रुपये हो → सूक्ष्म उद्यम

✓ वे उद्योग जिनमें 10 करोड़ रुपये से कम का निवेश हो एवं वार्षिक टर्न ओवर 90 करोड़ रुपये हो → लघु उद्यम

✓ वे उद्योग जिनमें 50 करोड़ रुपये से कम का निवेश हो एवं वार्षिक टर्न ओवर 250 करोड़ रुपये हो → मध्यम उद्यम

☐ धूपगढ़ चोटी निम्नलिखित राष्ट्रीय उद्यानों में से किसमें स्थित है-

- A. सतपुड़ा राष्ट्रीय उद्यान
- B. कान्हा राष्ट्रीय उद्यान
- C. बांधवगढ़ राष्ट्रीय उद्यान
- D. माधव राष्ट्रीय उद्यान

Nation
Park

मध्य प्रदेश

✓ धूपगढ़ किस पर्वत श्रेणी में अवस्थित है
→ महादेव पहाड़ी

✓ कान्हा राष्ट्रीय उद्यान स्थित है → म.प्र.

✓ बांधवगढ़ राष्ट्रीय उद्यान स्थित है → म.प्र.

✓ माधव राष्ट्रीय उद्यान स्थित है → म.प्र.



☐ खेती के लिए फसल-चक्र का क्या महत्त्व है-

- A. इससे उत्पादन में वृद्धि होती है
- B. मृदा की उर्वरकता संरक्षित रहती है
- C. मृदा कटाव कम होता है
- D. उपर्युक्त सभी

✓ भारत में फसल के प्रकार हैं →

रबी, अरीफ, जासद

✓ व्यापारिक फसल या वाणिज्यिक फसल किस फसल के अन्य नाम हैं →

गन्ना, चाय, कॉफी, सोयाबीन, रबड़, कांको

✓ नकदी फसल का उदाहरण है →

नकदी फसल



- ❑ निम्नलिखित में से ऊर्जा का कौन स्त्रोत व्यावसायिक स्त्रोत नहीं है-
- A. पेट्रोलियम
- B. परमाणु ऊर्जा
- C. प्राकृतिक गैस
- D. बायोगैस

व्यावसायिक

नैतिक ऊर्जा

- ✓ कोयला, पेट्रोलियम, प्राकृतिक गैस आदि ऊर्जा के किस प्रकार के स्त्रोत हैं → प्राकृतिक एवं व्यावसायिक
- ✓ ऊर्जा के स्त्रोतों को बाँटा जाता है → ②
 - ① अवीकरणिय
 - ② अनीकणीय
- ✓ पेट्रोलियम ऊर्जा किस प्रकार का स्त्रोत है
 - अनीकरणिय
 - पेट्रोल
 - कोयला
 - प्राकृतिक गैस
 - डीजल



☐ गंगा नदी, उत्तर प्रदेश में किस जनपद से प्रवेश करती है-

- A. बिजनौर
- B. मेरठ
- C. सहारनपुर
- D. जे.पी. नगर

- ✓ गंगा नदी उत्तर प्रदेश के कितने जिलों से होकर बहती है → 28 जिले
- ✓ गंगा नदी के किनारे पर बसे उ.प्र. के प्रमुख शहर हैं → बिजनौर, कन्नौज, फर्रुखाबाद, कागपुर, प्रयागराज, वाराणसी
- ✓ उत्तर प्रदेश में गंगा में गिरने वाली प्रमुख नदियों में शामिल हैं → रामगंगा (कन्नौज), यमुना (प्रयागराज), गोमती (वाराणसी) → गाजीपुर



निम्न ऋतुओं को भारतीय कैलेंडर के अनुसार कालक्रमानुसार व्यवस्थित कीजिए-

- I. शरद ⁴
- II. ग्रीष्म ²
- III. बसंत ¹
- IV. वर्षा ³

कूट :

- A. II, IV, III और I
- B. III, II, IV और I
- C. IV, II, I और III
- D. I, IV, II और III

- 1. बसंत
- 2. ग्रीष्म
- 3. वर्षा
- 4. शरद

भारतीय कैलेण्डर आधारित है → शक संवत्

शक संवत् प्रारंभ किया था → कनिष्क
↳ कब → 78 ई.

भारत सरकार द्वारा शक संवत् अपनाया गया → 22 मार्च, 1957

शक संवत् के अनुसार, हिन्दी पंचांग में प्रथम एवं अंतिम माह है → चैत्र ← फाल्गुन



Nitin Sir Hand Written E-Books

Class Note

प्राचीन इतिहास

Each Chapter With Free Video Solution & Test

By Nitin Sir

All The latest Question have been included to help the students know the latest pattern of the exam.

मध्यकालीन इतिहास

Each Chapter With Free Video Solution & Test

By Nitin Sir

All The latest Question have been included to help the students know the latest pattern of the exam.

Each Chapter With Free Video Solution & Test

आधुनिक इतिहास

Class Notes

By Nitin Sir

All The latest Question have been included to help the students know the latest pattern of the exam.

CLASS NOTE

सामान्य हिंदी

Each Chapter With Free Video Solution & Test

By Nitin Sir

All The latest Question have been included to help the students know the latest pattern of the exam.

Indian Geography
भारत का भूगोल

Each Class & Each Chapter With Video Solution

By Nitin Sir

All The latest Question have been included to help the students know the latest pattern of the exam.

50% OFF

Class Notes

PHYSICS

You Tube पर निःशुल्क पढ़ें

By Nitin Sir

Each Class & Each Chapter With Video Solution

CHEMISTRY
रसायन विज्ञान

By Nitin Sir

All The latest Question have been included to help the students know the latest pattern of the exam.

Class Notes

BIOLOGY

50% OFF

You Tube पर निःशुल्क पढ़ें

By Nitin Sir

भारतीय राज्यव्यवस्था

Class Notes

You Tube पर निःशुल्क पढ़ें

50% OFF

By Nitin Sir

A decorative graphic featuring a dark blue background with white circuit board traces and nodes in the corners. The traces form a grid-like pattern with small circles at the nodes, resembling a printed circuit board (PCB) layout.

Thank You